

Kontinuitätsgleichung:

$$A \cdot v = \text{konst.}$$

Bsp.:

Aorta

$$3 \text{ cm}^2 = A_0$$

$$v_0 = 30 \text{ cm/s}$$

Kapillare

$$d = 6 \mu\text{m} = 0,006 \text{ mm}$$

$$r = 0,003 \text{ mm} \Rightarrow A_k = 3 \cdot 10^{-7} \text{ cm}^2$$

$$v_k = 0,05 \text{ cm/s}$$

Wie viele Kapillare?

$$A_0 \cdot v_0 = n \cdot A_k \cdot v_k$$

$$n = \frac{A_0 \cdot v_0}{A_k \cdot v_k} = \frac{3 \text{ cm}^2 \cdot 30 \text{ cm/s}}{3 \cdot 10^{-7} \text{ cm}^2 \cdot 0,05 \text{ cm/s}}$$

$$= 6 \cdot 10^9$$

= 6 Milliarden

Bsp.:

Wasserhahn

$$A_0 = 1,2 \text{ cm}^2$$



$$R_v = 34 \text{ cm}^3/\text{s}$$

$$\Rightarrow v = \frac{R_v}{A_0} = 28,6 \text{ cm/s}$$

in 1 m Tiefe:

Beim Verlassen des Hahns wirkt auf das Wasser die Erdanziehungskraft!

⇒ freie Fall nach unten

$$v = v_0 + g \cdot t$$

$$1 \text{ m} = s = \frac{1}{2} g \cdot t^2$$

$$t = \sqrt{\frac{2s}{g}}$$

$$v = v_0 + g \cdot \sqrt{\frac{2s}{g}}$$

$$= v_0 + \sqrt{2sg}$$

$$= 28,6 \text{ cm/s} + \sqrt{2 \cdot 1 \text{ m} \cdot 9,81 \text{ m/s}^2}$$

$$= 47,1,5 \text{ cm/s}$$

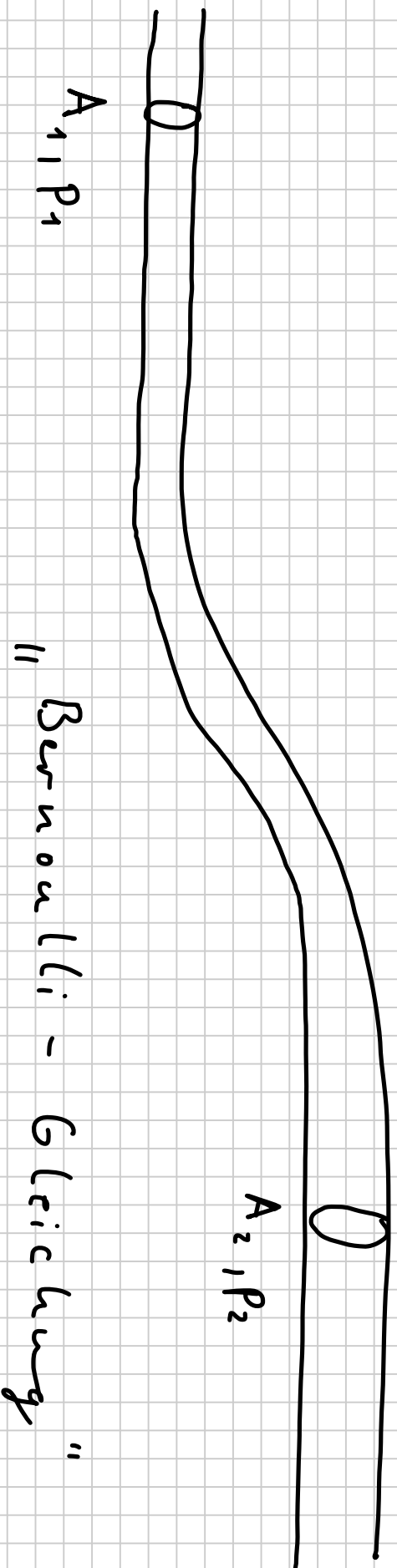
47,1,5 cm/s

Kontinuitätsgleichung:

$$A_0 \cdot v_0 = A_1 \cdot v_1$$

$$A_1 = \frac{A_0 \cdot v_0}{v_1} = \frac{1,2 \text{ cm}^2 \cdot 28,6 \text{ cm/s}}{471,5 \text{ cm/s}}$$
$$= 0,728 \text{ cm}^2 = 7,28 \text{ mm}^2$$

Daniel Bernoulli um 1700:

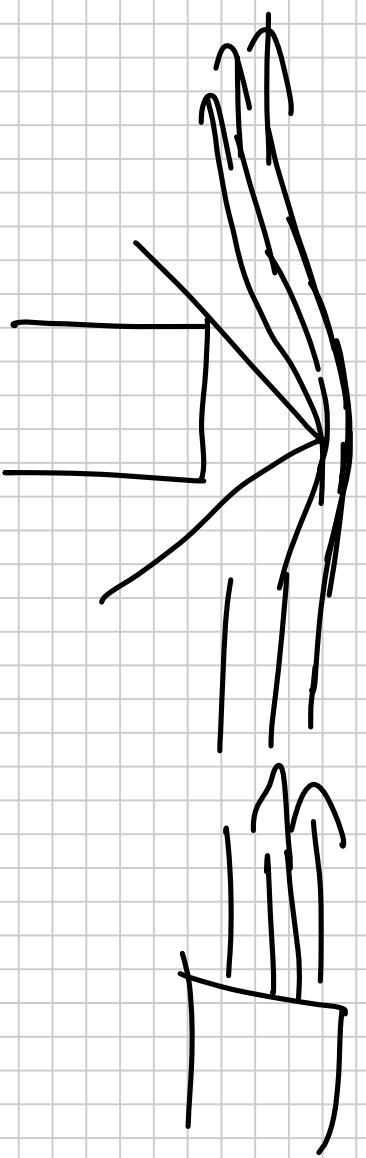


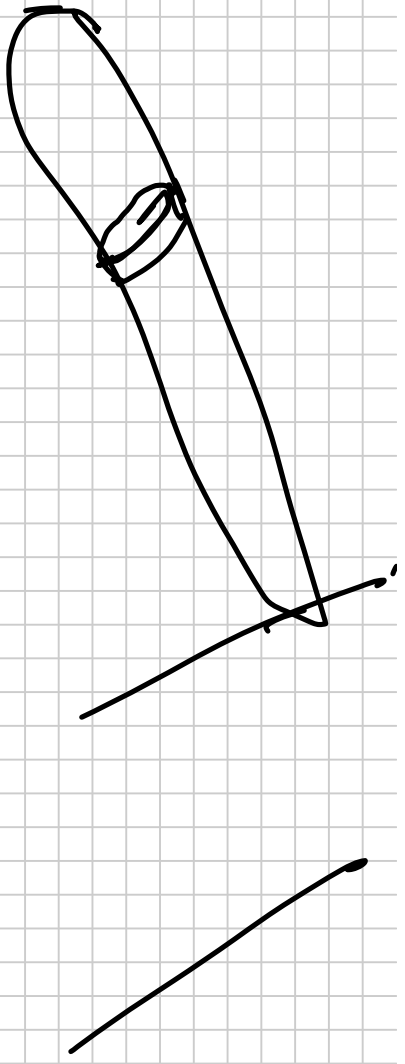
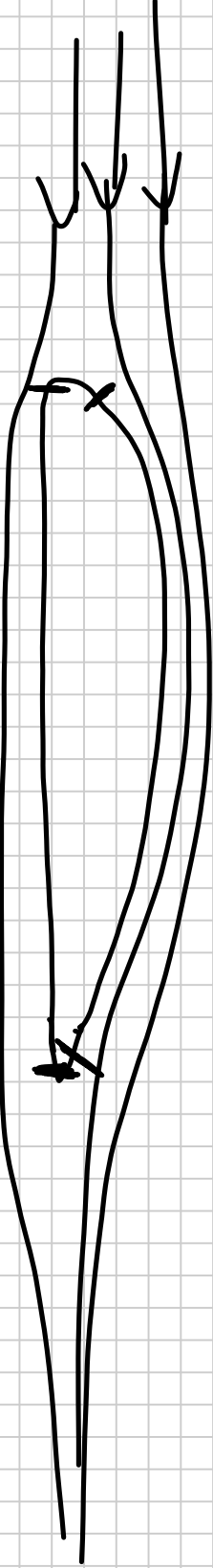
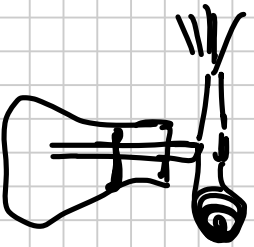
$$P + \underbrace{\frac{1}{2} \rho \cdot v^2}_{\substack{\text{dynamische} \\ \text{Druck}}} + \underbrace{\rho \cdot g \cdot h}_{\substack{\text{Schwerkdruck}}} = \text{const.}$$

↑
stat. Druck

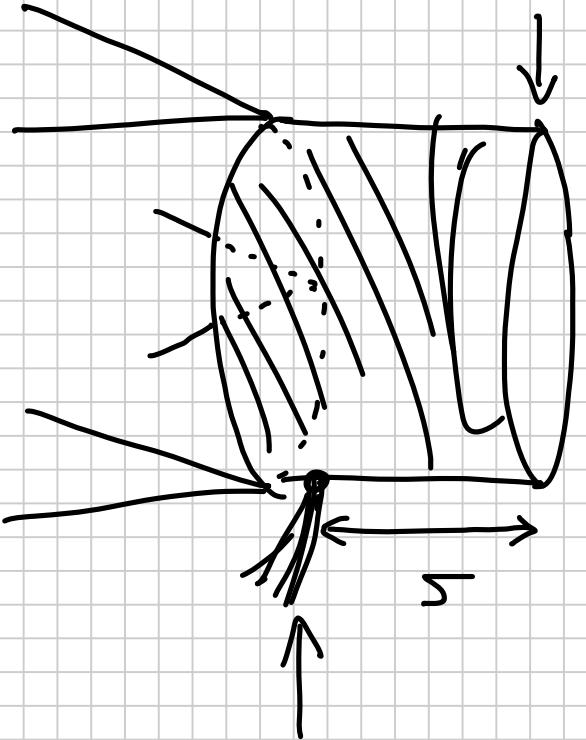
$$P_1 + \frac{1}{2} \rho_1 v_1^2 + \rho_1 g \cdot h_1 = P_2 + \frac{1}{2} \rho_2 v_2^2 + \rho_2 g \cdot h_2$$

⇒ Wenn die Geschwindigkeit eines Fluids zunimmt, dann muss der Druck des Fluids abnehmen!





Bsp:



$$\cancel{p_0} + \frac{1}{2} \rho \cdot v_0^2 + \cancel{\rho g h_0} = \cancel{p} + \frac{1}{2} \rho v^2 + \rho g \cdot h$$

$= 0$

„Füllhöhe“

$$\frac{1}{2} \rho \cdot v_0^2 = \frac{1}{2} \rho v^2 + \rho g \cdot h$$

$$v_0 \text{ fast} = v \quad v_0 \approx 0$$

$$\Rightarrow 0 = \frac{1}{2} \rho v^2 + \rho g \cdot h$$

$$\Rightarrow \frac{1}{2} \cancel{v^2} = \cancel{v^2} + g \cdot h$$

$$g \cdot h = \frac{1}{2} v^2$$

$$v^2 = 2 g \cdot h$$

$$v = \sqrt{2 g \cdot h}$$